


7 problèmes par semaine



Semaine 36

5 Quel est le plus petit ?

0,9

0,8

0,726

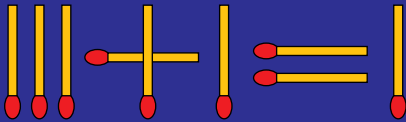
0,81

0,801

0,75

2

Déplacer 1 allumette

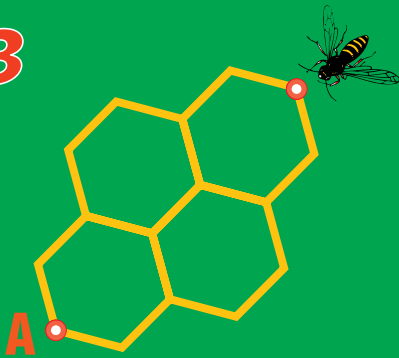


pour rendre l'égalité vraie (en chiffres romains).

6

$$\frac{4^{(3^2)}}{(2^3)^4} = ?$$

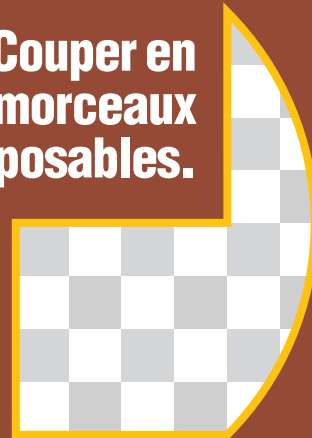
3



Combien de plus courts chemins jusqu'à A ?

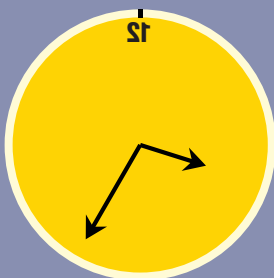
7

Couper en 2 morceaux superposables.



4

Dans mon miroir, je vois l'horloge.



Quelle heure est-il ?

8

Couleur de la face opposée à la face orange du cube ici vu 3 fois ?

