
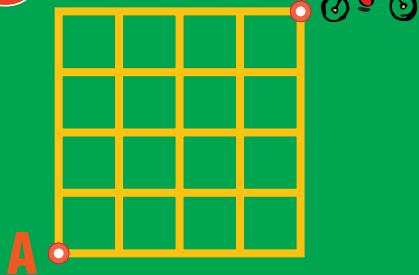


# 7 problèmes par semaine



**Semaine 32**

**5**



Combien de plus courts chemins jusqu'à A ?


**6**

212 étoiles  
1300 branches



Combien à 5 branches ?

Combien à 7 branches ?



**7**

**Un millefeuille :**

1. Replier la pâte sur elle-même.
2. Étaler et plier en 3, étaler perpendiculairement et plier en 3.
3. Recommencer 2 encore 2 fois.

Combien de feuilles ?

**8**

ajoute 10,  
multiplie par 2  
et soustrait 8.

1 = ?

2 = ?

10 = ?

Si  $z = z$ , alors  $z = ?$

**9**

Dans ce cadre, il y a :  
 \_\_\_ chiffre(s) 1  
 \_\_\_ chiffre(s) 2  
 \_\_\_ chiffre(s) 3  
 \_\_\_ chiffre(s) 4  
 \_\_\_ chiffre(s) 5  
 \_\_\_ chiffre(s) 6

Compléter les 6 lignes en écrivant 6 chiffres.

**10**

Dans le rétroviseur, on lit le numéro d'immatriculation de la voiture de derrière.

PS 92 E25F

Quel est-il ?

**11**

