


7 problèmes par semaine

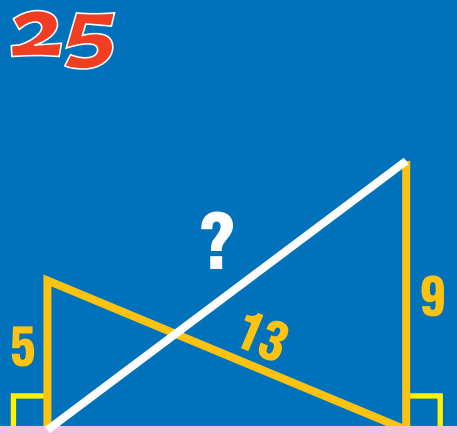


Semaine 26


27 De zéro à un milliard, **quels** sont le plus petit et le plus grand nombre s'écrivant avec 16 « e » ?

24 De zéro à un milliard, **quel est** le nombre qui s'écrit avec le plus de lettres ?

28 **Quel est** le plus petit nombre dont l'écriture utilise 21 lettres sur les 26 de l'alphabet ?



26 Changer une lettre à la fois en formant des mots.



30 Placer les nombres entiers de 1 à 9 sur le cercle de telle sorte que 2 voisins diffèrent au plus de 2.

