

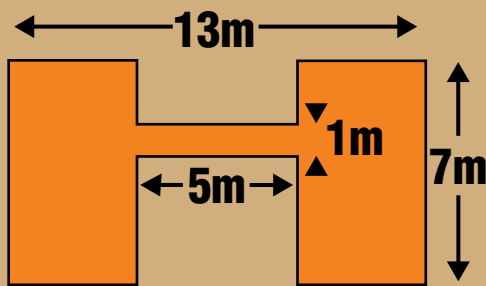
# 7 problèmes par semaine



## Semaine 23

3

Aire ?



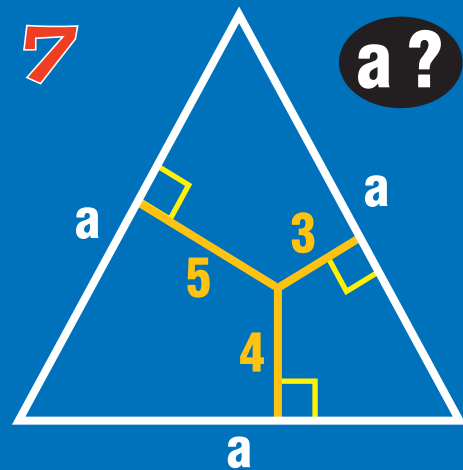
6

Dans ce cadre, il y a  
 \_\_\_ chiffre(s) 2  
 \_\_\_ chiffre(s) 4  
 1 chiffre 8

(compléter les 2 lignes en écrivant 2 chiffres)

7

a ?




4

Le produit de mes trois chiffres vaut 12 et leur somme 8. Qui puis-je être ?

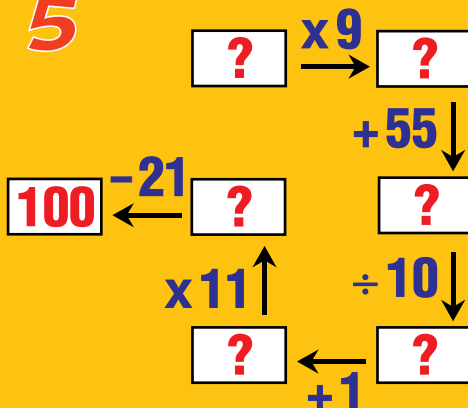
8

30 formes  
99 coins



Combien de triangles ?  
Combien de carrés ?

5



9

Diana chasse la coquille ; elle en trouve sur chaque page la somme des chiffres du numéro de la page. Combien de coquilles dans les pages 1 à 32 ?