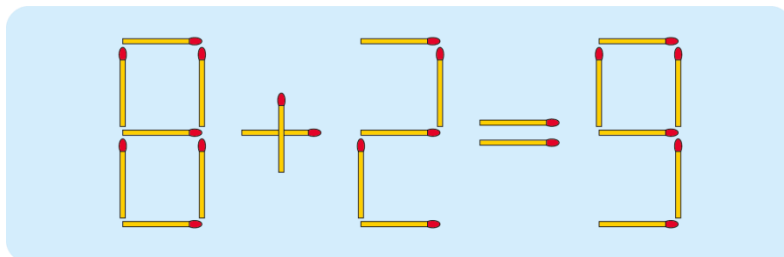


## La page de Jeux - 4

### 4.1 • Allumettes

Changer de place une seule allumette pour rendre l'égalité juste.



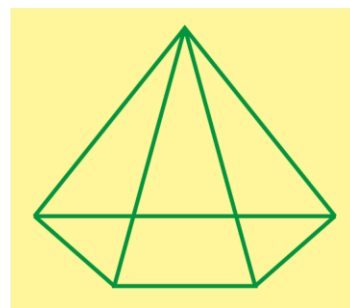
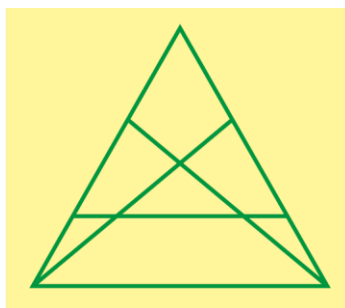
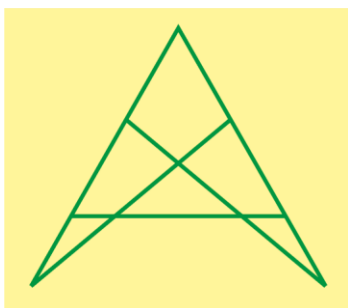
### 4.2 • Le compte est bon

En utilisant les cinq nombres (dans n'importe quel ordre) et les quatre opérations (autant de fois que nécessaire), trouver un calcul qui donne le nombre cible écrit en gras.

100    10    8    5    2                    **954**

### 4.3 • Questions Kangourou classiques...

Dans chacune de ces 3 figures, combien peut-on voir de triangles au maximum ?



### 4.4 • L'anniversaire du Kangourou

C'est l'horreur : il y a 456 pattes et 64 fourmis ou araignées dans ma chambre.  
Combien y a-t-il d'araignées ?

**Solutions dans la gazette 5**