


# 7 problèmes par semaine




## Semaine 24

**14**


Passer une seule fois sur chacun de tous les traits.



**11**

 = 1m<sup>2</sup>

Aire de l'hendécagone ?



**15**

De 1 à 2222, combien de nombres n'utilisent que les chiffres 0 et 2 ?


**12**

	A	A	A	A	
+	i	i	i	i	
+	e	e	e	e	
	i	A	A	A	e


Trouver les 3 chiffres différents A, i et e.

**16**

Partager en 4 parties de même forme.



**13**



Nombre de triangles ?

**17**

35 livres, 182 euros.  
Combien de grands ?  
Combien de petits ?

