


7 problèmes par semaine



Semaine 6

5




Somme des chiffres : 11

Somme des chiffres : 5

Multiple de 40

Multiple de 35

8 Dans quelle coupe Jacqueline aura le plus de champagne ?

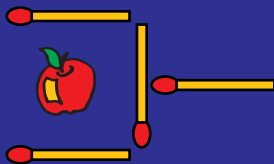


9



Planter **10** arbres en formant **5** alignements de **4** arbres.

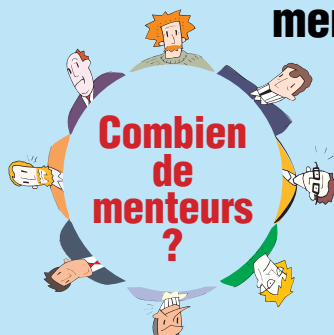
6 Déplacer 2 allumettes



pour que la pomme soit hors de la pelle.

10 Arnaud tout habillé, pèse **41** kg. Tout nu il pèse **37** kg de plus que ces habits. **Combien pèse Arnaud ?**

7 Chacun dit : "Mon voisin de droite ment."



11 Quelle est la somme de tous les chiffres utilisés pour écrire tous les nombres de 1 à 1000 ?