


7 problèmes par semaine

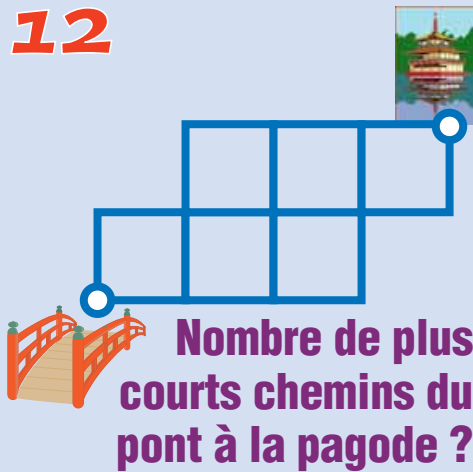


Semaine 3

11

Si j'avais eu
trois fois plus
d'euros, j'en aurais
acheté trois de plus.
Combien en
ai-je acheté ?

12



Nombre de plus
courts chemins du
pont à la pagode ?

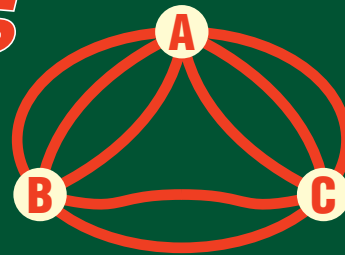
13

On a payé 46 €
avec 33 pièces de 1 €
ou 2 € uniquement.
Combien a-t-on utilisé
de pièces de 2 € ?

14

Avec une balance
et trois poids
de 1, de 3 et de 9 kg,
combien peut-on peser
de poids différents ?

15



Nombre de chemins de
A à A, sans parcourir
deux fois le même arc ?

16



Chaque seconde
une nouvelle
couleur
"entoure"
les carrés
déjà coloriés.

Nombre de carrés
coloriés en 1 minute
à partir du carré noir ?

17

Placer
les
nombres
de 1 à 7
de sorte
que les
3 sommes de 3 nombres
"alignés" soient égales à la
somme des 4 cases bleues.

