

Questions d'entraînement au Jeu Koala — Série 2


Pour chaque question, parmi les 5 réponses proposées, une seule est juste.

Mets une croix dans le koala situé sous ta réponse :



① Un papillon s'est posé sur un calcul juste.
Sur quel nombre s'est-il posé ?

$$7 + 5 = \text{papillon} + 10$$

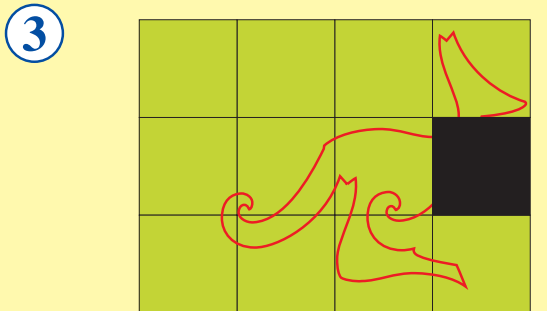


- 1
- 2
- 3
- 4
- 5

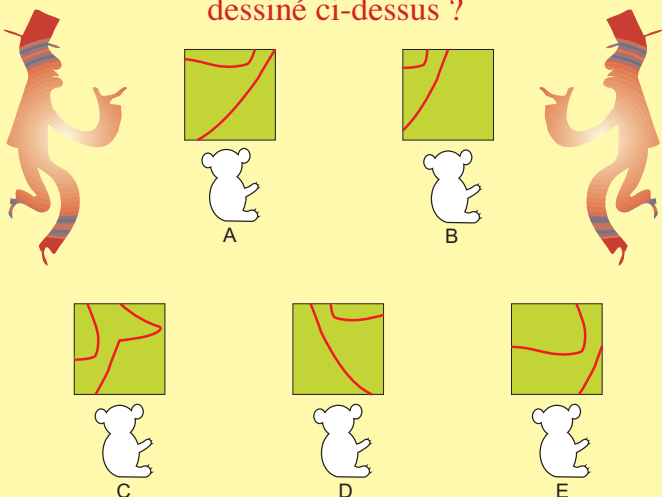
② Le kangourou est passé à travers le mur.
Combien de cubes a-t-il fait tomber dans cette construction ?



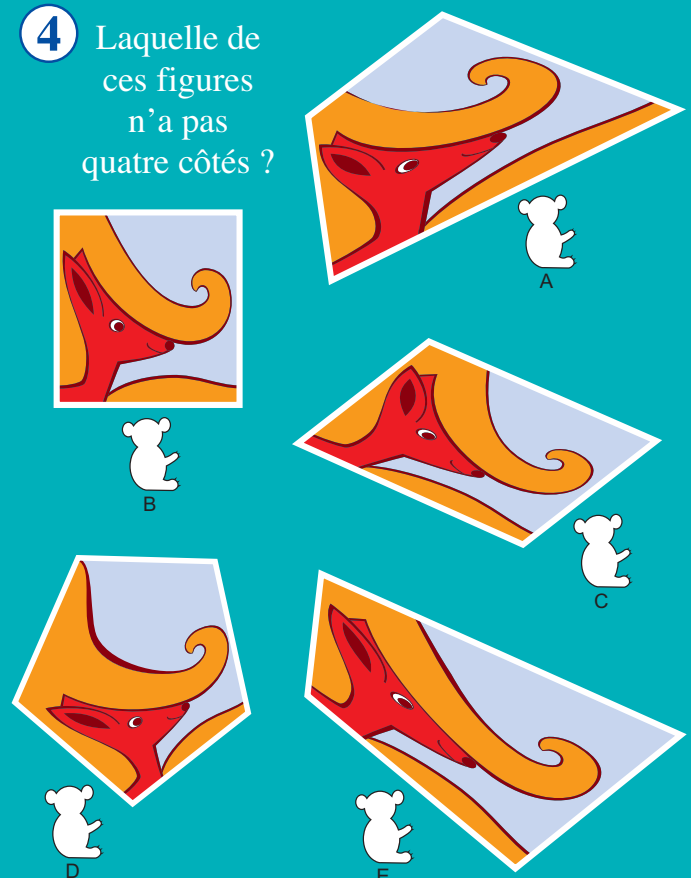
- 10
- 12
- 13
- 14
- 16



Quel carré vient du kangourou dessiné ci-dessus ?



④ Laquelle de ces figures n'a pas quatre côtés ?



Questions d'entraînement au Jeu Koala — Série 2

Pour chaque question, parmi les 5 réponses proposées, une seule est juste.

Mets une croix dans le koala situé sous ta réponse :




- 5** Camille a un chien, deux chats, deux perroquets et quatre poissons. Combien y a-t-il de pattes d'animaux dans la maison quand ils y sont tous ?



- 12 14 16 18 20
- A B C D E

6



Dans une demi-heure, il sera 10 heures.
Quelle heure est-il ?

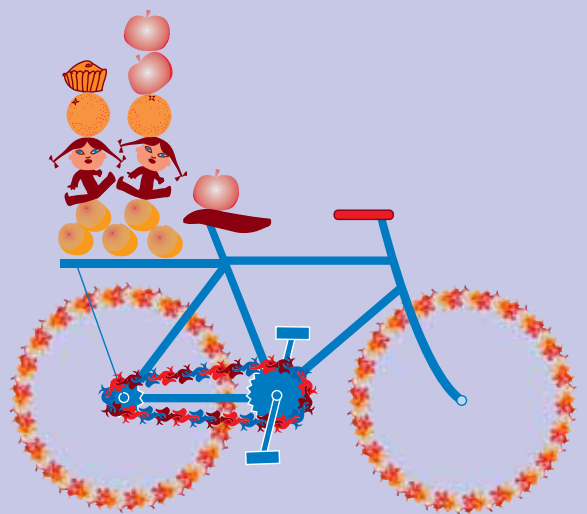
- 11h 10h30 10h 9h30 9h
- A B C D E

- 7** Océane a acheté des livres de poche. Chacun d'eux coûte 3 euros. Elle a donné 9 euros. Combien de livres a-t-elle acheté ?



- 2 3 4 5 6
- A B C D E

- 8** Betty a deux poupées, trois pommes, deux oranges, cinq pêches et une bicyclette. Combien de fruits a-t-elle ?



- 3 5 10 18 21
- A B C D E

SOLUTIONS — SÉRIE 2

(Les lettres A, B, C, D et E, écrites en petits caractères sous chaque réponse proposée, permettent aux enseignants d'identifier les réponses de l'élève et de repérer les bonnes réponses données ci-dessous.)

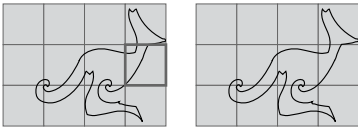
1. Réponse B

$7 + 5 = 12$ et $2 + 10 = 12$. Le papillon s'est posé sur le nombre 2.

2. Réponse D

En comptant par colonne : $1 + 2 + 2 + 4 + 4 + 1 = 14$.

3. Réponse B



4. Réponse D

Seule la figure D n'a pas quatre côtés, elle en a cinq.

5. Réponse C

Le chien et les chats ont 4 pattes, les perroquets 2 pattes et les poissons aucune.

On compte : $4 + 4 + 4 + 2 + 2 = 16$. Ce qui fait 16 pattes d'animaux.

6. Réponse D

30 minutes avant 10 heures, il est 9 heures et 30 minutes : 9 h 30.

7. Réponse B

Un livre coûte 3 euros.

Deux livres ensemble coûtent $3 + 3$, soit 6 euros.

Trois livres ensemble coûtent $3 + 3 + 3$, soit 9 euros.

Océane a acheté 3 livres avec 9 euros.

8. Réponse C

Les fruits sont : 3 pommes, 2 oranges et 5 pêches.

$3 + 2 + 5 = 10$.

Betty a 10 fruits.